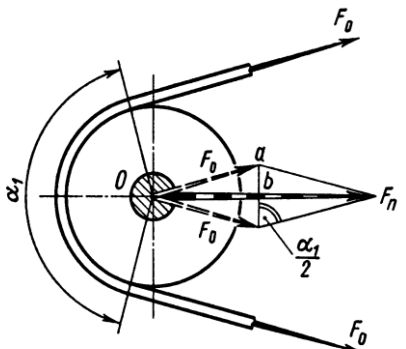
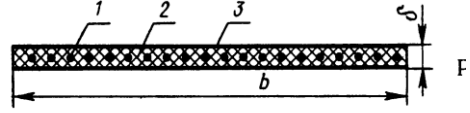
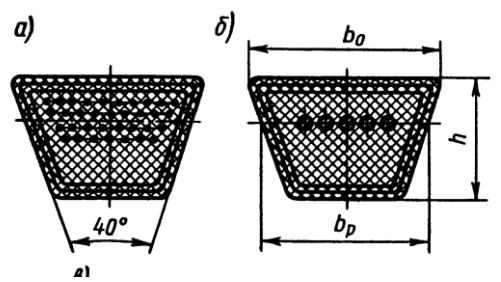


<p>Вопрос 1.</p> <ol style="list-style-type: none"> 1. Как называют передачу? 2. Назовите элементы передачи: 3. Укажите и назовите ведущее и ведомое звенья 	<p>Запишите ответы на вопросы</p> <ol style="list-style-type: none"> 1. 2. 3.
<p>Вопрос 2.</p> <p>К какому типу передач относится передача?</p> <p>Выберите несколько правильных ответов.</p>	<ol style="list-style-type: none"> 1. Передача непосредственного контакта 2. Передача гибкой связью. 3. Передача трением 4. Передача зацеплением
<p>Вопрос 3.</p> <p>Как различают передачи по типу ремня?</p>	<p><i>a</i>—</p> <p><i>б</i>—</p> <p><i>в</i>—</p> <p><i>г</i>—</p>
<p>Вопрос 4</p> <p>Назовите геометрические параметры передачи:</p>	<p>d_1 —</p> <p>d_2 —</p> <p>a — назовите и запишите формулу</p> <p>α_1 — назовите и запишите формулу</p> <p>L —</p>

<p>Вопрос 5</p> <p>Назовите кинематические характеристики:</p>	<p>ω_1, n_1 — назовите и запишите единицы измерения</p> <p>ω_2, n_2 назовите и запишите единицы измерения</p> <p>i — назовите и запишите формулу</p> <p>ξ — назовите и запишите допустимые значения</p>
<p>Вопрос 6</p> <p>Назовите усилия, действующие в ремённой передаче</p> 	<p>F_0 -</p> <p>F_n - назовите и запишите формулу</p>
<p>Вопрос 7</p>  	<p>Назовите параметры δ, b—</p> <p>b_p, b_0, h-</p>